

# 第1章 正の数、負の数 (加法1)

氏名 \_\_\_\_\_ 学習日 \_\_\_\_\_ 月 \_\_\_\_\_ 日

1. 次の計算をなさい。

(1)  $(+3) + (+2)$



(2)  $(+4) + (+3)$



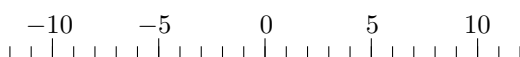
(3)  $(+3) + (+5)$



(4)  $(+4) + (+5)$

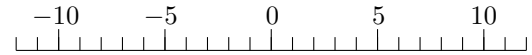


(5)  $(+2) + (+7)$

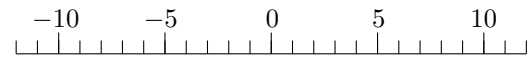


2. 次の計算をなさい。

(1)  $(+5) + (-3)$



(2)  $(+9) + (-2)$



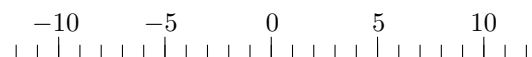
(3)  $(+8) + (-5)$



(4)  $(+7) + (-3)$



(5)  $(+6) + (-5)$



## 第1章 正の数、負の数 (加法1) 解答

1. (1)  $+5$  (2)  $+7$  (3)  $+8$  (4)  $+9$  (5)  $+9$

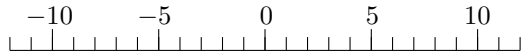
2. (1)  $+2$  (2)  $+7$  (3)  $+3$  (4)  $+4$  (5)  $+1$

# 第1章 正の数、負の数 (加法1)

氏名 \_\_\_\_\_ 学習日 \_\_\_\_\_ 月 \_\_\_\_\_ 日

1. 次の計算をなさい。

(1)  $(+1) + (-6)$



(2)  $(+2) + (-5)$



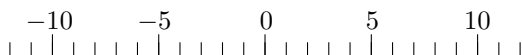
(3)  $(+1) + (-3)$



(4)  $(+4) + (-7)$

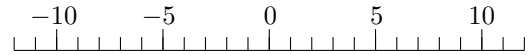


(5)  $(+8) + (-9)$

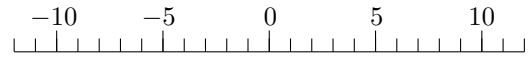


2. 次の計算をなさい。

(1)  $(-9) + (+2)$



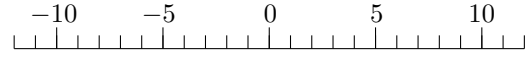
(2)  $(-8) + (+6)$



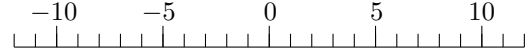
(3)  $(-7) + (+4)$



(4)  $(-9) + (+6)$



(5)  $(-3) + (+1)$



## 第1章 正の数、負の数 (加法1) 解答

1. (1)  $-5$  (2)  $-3$  (3)  $-2$  (4)  $-3$  (5)  $-1$

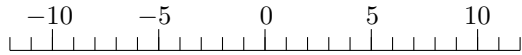
2. (1)  $-7$  (2)  $-2$  (3)  $-3$  (4)  $-3$  (5)  $-2$

# 第1章 正の数、負の数 (加法1)

氏名 \_\_\_\_\_ 学習日 \_\_\_\_\_ 月 \_\_\_\_\_ 日

1. 次の計算をなさい。

(1)  $(-3) + (+4)$



(2)  $(-4) + (+9)$



(3)  $(-4) + (+5)$



(4)  $(-3) + (+7)$

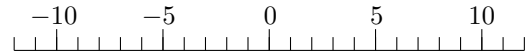


(5)  $(-6) + (+9)$

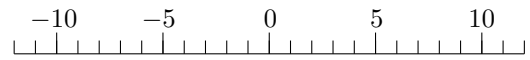


2. 次の計算をなさい。

(1)  $(-4) + (-5)$



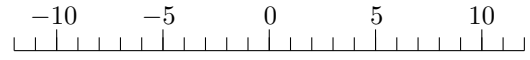
(2)  $(-2) + (-5)$



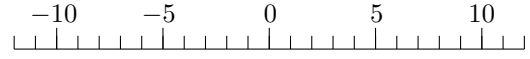
(3)  $(-4) + (-3)$



(4)  $(-3) + (-6)$



(5)  $(-6) + (-1)$



## 第1章 正の数、負の数 (加法1) 解答

1. (1) +1 (2) +5 (3) +1 (4) +4 (5) +3

2. (1) -9 (2) -7 (3) -7 (4) -9 (5) -7