

# 第1章 正の数、負の数 (加法2)

氏名 \_\_\_\_\_ 学習日 \_\_\_\_\_ 月 \_\_\_\_\_ 日

1. 次の計算をなさい。

(1)  $(-6) + (+7)$



(2)  $(-10) + (+9)$



(3)  $(+1) + (+4)$



(4)  $(+3) + (+6)$

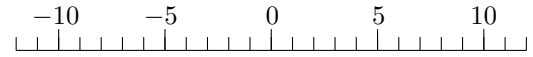


(5)  $(-2) + (-1)$



2. 次の計算をなさい。

(1)  $(-4) + (-2)$



(2)  $(-4) + (+8)$



(3)  $(-2) + (+5)$



(4)  $(+4) + (-9)$



(5)  $(-6) + (+5)$



## 第1章 正の数、負の数 (加法2) 解答

1. (1)  $+1$  (2)  $-1$  (3)  $+5$  (4)  $+9$  (5)  $-3$

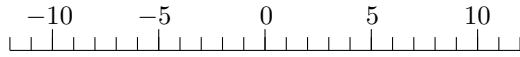
2. (1)  $-6$  (2)  $+4$  (3)  $+3$  (4)  $-5$  (5)  $-1$

# 第1章 正の数、負の数 (加法2)

氏名 \_\_\_\_\_ 学習日 \_\_\_\_\_ 月 \_\_\_\_\_ 日

1. 次の計算をなさい。

(1)  $(+3) + (-1)$



(2)  $(+6) + (-9)$



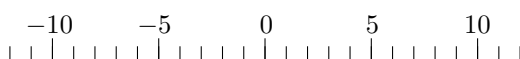
(3)  $(-5) + (+4)$



(4)  $(+10) + (-5)$

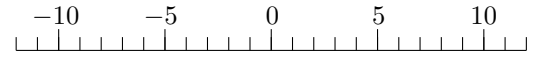


(5)  $(+3) + (+8)$

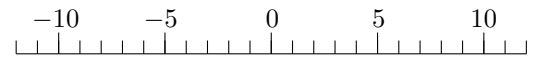


2. 次の計算をなさい。

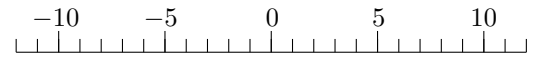
(1)  $(-7) + (+5)$



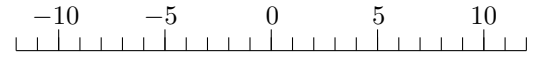
(2)  $(+7) + (-1)$



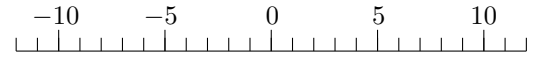
(3)  $(-9) + (-1)$



(4)  $(-4) + (-6)$



(5)  $(+3) + (-4)$



## 第1章 正の数、負の数 (加法2) 解答

1. (1)  $+2$  (2)  $-3$  (3)  $-1$  (4)  $+5$  (5)  $+11$

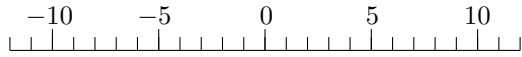
2. (1)  $-2$  (2)  $+6$  (3)  $-10$  (4)  $-10$  (5)  $-1$

# 第1章 正の数、負の数 (加法2)

氏名 \_\_\_\_\_ 学習日 \_\_\_\_\_ 月 \_\_\_\_\_ 日

1. 次の計算をなさい。

(1)  $(-8) + (+1)$



(2)  $(+2) + (-8)$



(3)  $(-8) + (-2)$



(4)  $(+1) + (-4)$

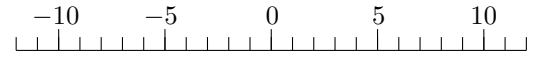


(5)  $(+5) + (-4)$



2. 次の計算をなさい。

(1)  $(+2) + (+8)$



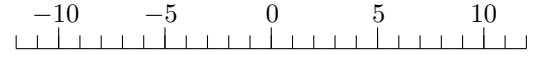
(2)  $(-5) + (-6)$



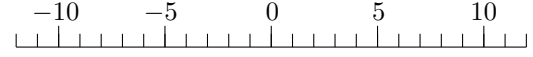
(3)  $(+3) + (-3)$



(4)  $(-8) + (+10)$



(5)  $(-9) + (+4)$



## 第1章 正の数、負の数 (加法2) 解答

1. (1)  $-7$  (2)  $-6$  (3)  $-10$  (4)  $-3$  (5)  $+1$

2. (1)  $+10$  (2)  $-11$  (3)  $0$  (4)  $+2$  (5)  $-5$

# 第1章 正の数、負の数 (加法2)

氏名 \_\_\_\_\_ 学習日 \_\_\_\_\_ 月 \_\_\_\_\_ 日

1. 次の計算をなさい。

(1)  $(+1) + (-5)$



(2)  $(-8) + (-2)$



(3)  $(-1) + (+2)$



(4)  $(+2) + (-4)$

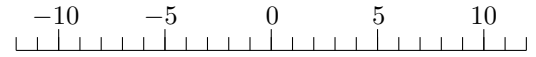


(5)  $(-1) + (+10)$

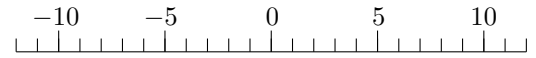


2. 次の計算をなさい。

(1)  $(-4) + (+7)$



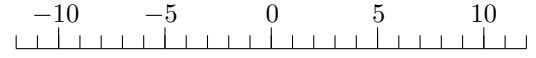
(2)  $(+2) + (-7)$



(3)  $(+5) + (-8)$



(4)  $(-8) + (-2)$



(5)  $(+6) + (+5)$



## 第1章 正の数、負の数 (加法2) 解答

1. (1)  $-4$  (2)  $-10$  (3)  $+1$  (4)  $-2$  (5)  $+9$

2. (1)  $+3$  (2)  $-5$  (3)  $-3$  (4)  $-10$  (5)  $+11$